

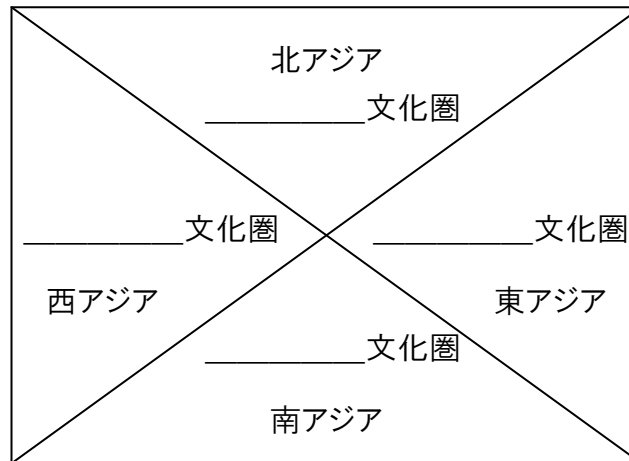
確認問題（世界史『アジアと中国』）

平成 21 年 4 月 11 日

河野愛一郎

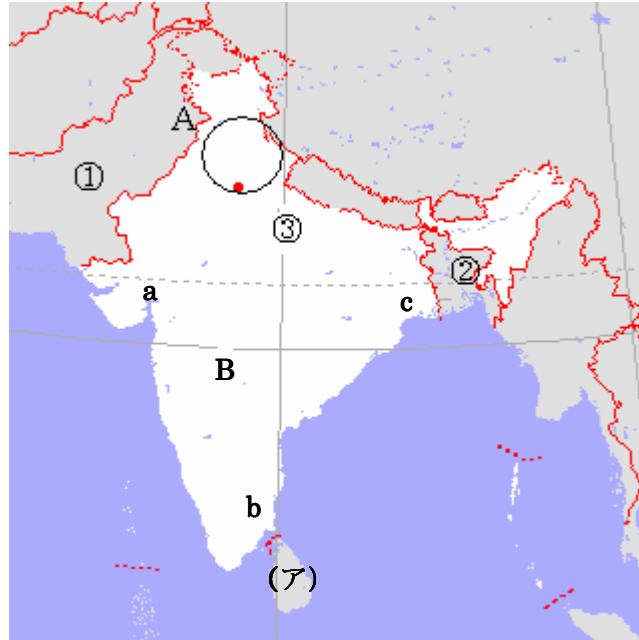
以下の設問に答えなさい。その際、回答は全て別途、指定された用紙に記入し、用紙には必ず氏名を記入しなさい。

問 1 以下は簡単なアジアの概略図である。これについて、以下の設問に答えなさい。但し、ここでは北アジアを、モンゴルおよび東トルキスタンと定義する



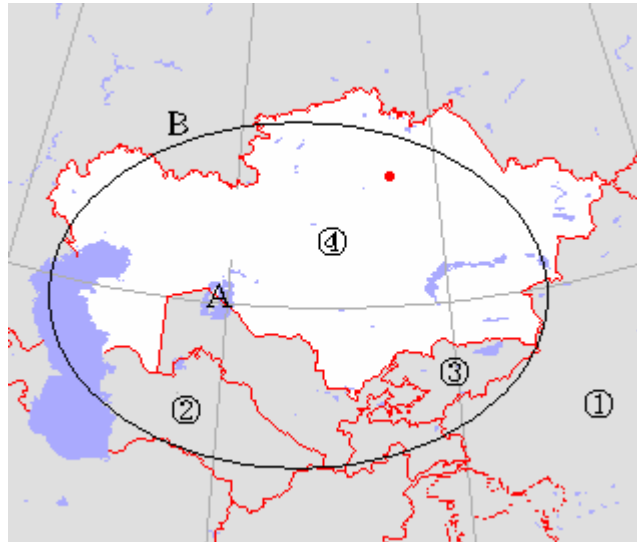
- (1) アジアの他の世界と比べて、東アジアを説明できる特徴について 15 字以内で述べなさい。その際、人々の生活と文字に着目すること。
- (2) 東アジアと南アジアの間に存在する巨大な自然障壁の名称を答えなさい。
- (3) 東アジアと北アジアの間に存在する人工障壁の名称を答えなさい。

問2 南アジアに関する以下の設問に答えなさい。



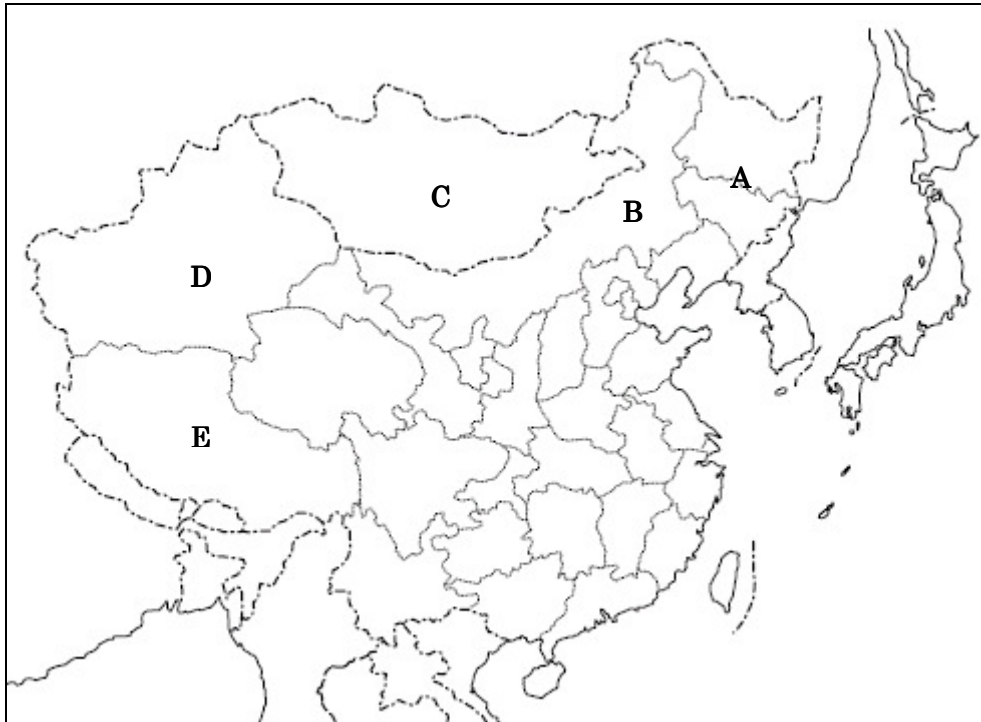
- (1) ①の国家およびペルシアの南に存在する海洋の名称を答えなさい。
- (2) ②の国家の南に存在する湾の名称を答えなさい。
- (3) (1) (2) とその南方の海洋を総称した名称を答えなさい。
- (4) (ア) の島の名称および、そこに存在する国家の名前を答えなさい。
- (5) Aの○はパンジャブ地方であるが、その北に存在し、三国間で領有権を争っている地域名を答えなさい。また、その三国の名称も答えなさい。
- (6) B付近に存在する高原を答えなさい。また、その高原で栽培され、イギリスの産業革命と植民地政策に影響を与えた作物を答えなさい。
- (7) イギリスの植民地拠点となった都市である a, b, c を答えなさい。
- (8) ①の国家とペルシアの間に存在する山脈の名称を答えなさい。
- (9) ペルシア方面からインドに侵入して来る勢力が、(8) の山脈があるために必ず通過しなければならなかった峠の名称を答えなさい。

問3 中央アジアに関する以下の設問を答えなさい。



- (1) 湖Aに注ぐ2つの河川に挟まれた地域名を答えなさい。
- (2) 中国の①の地域およびBによって構成される地域に分布する民族系統およびその民族が信奉する宗教を答えなさい。

問4 中国とその周辺国における民族について以下の設問に答えなさい。



- (1) A付近に存在するツングース系の遊牧民族の名称を答えなさい。
- (2) Bの地域名を答えなさい。
- (3) Bに対してCを何と呼ばれているか答えなさい。
- (4) Dの地域に分布する民族の名称と信奉している宗教を答えなさい。
- (5) Eの地域に分布する民族の名称と信奉している宗教を答えなさい。

問5 中国系の移民に関する以下の文章を読んだ後、各下線部に関連した設問に対して適切に答えなさい。

中国の人口は現在、約13億人にも上るが、その始まりは意外と最近だ。時代は大航海時代、新大陸の銀が採掘されることによって、世界の銀の量が急増した。中国でも銀の流通量が増え、⁽¹⁾16世紀、明代において新たな税制が施行された。その税制は清代において改良され、この2つの税制によって、たかだか約3億人だった中国の人口は、増加の一途をたどることになる。しかし、イギリスの経済学者であるマルサスが『人口論』で語るように、人口の増加速度が加速的であるのに対し、生産される食糧の増加速度は一定なので、次第に農村が激増した人口を養いきれなくなっていく。

そうした中、⁽²⁾19世紀に至り、中国は帝国主義時代を迎え、数々の欧米によって、侵略されることになる。その過程で生じる社会混乱や、戦争、⁽³⁾講和条約による賠償金による重税などによって、農村はますます貧しくなっていく。そこで、中国、特に南部の農民は、太平天国の乱などの蜂起を行う者がいれば、当時解禁された中国人の海外渡航によって、貧しい中国を脱し、豊かな生活を求めて、移民する者もいた。その主な渡航先は、⁽⁴⁾アングロアメリカや東南アジア、日本などである。

現在、アングロアメリカでは、活躍する中国系も多いが、⁽⁵⁾白人が政治・経済を握っている状況は変わらない。しかし、東南アジア、特に、⁽⁶⁾シンガポール、マレーシアでは、中国系がかなりの割合を占めている。例えば、シンガポールでは、住民の7割以上が中国系であり、建国以来、約30年にも渡って首相として国の実権を握ったリー・クアン・ユーがその代表である。

- (1) 中国の人口を激増させた原因となった明代および清代の税制を答えなさい。また、その税制が人口を激増させた理由を60字以内で述べなさい。
- (2) 1840年から2年に渡って行われ、中国の反植民地化の発端となった戦争の名称を答えなさい。また、その戦争の戦勝国と、その戦争の講和条約によって開港させられた都市のうち、現在、1000万人ほどの人口を持つものを2つ答えなさい。
- (3) 当時の帝国主義列強国によって開港された都市に建設された外国人居住域の名称を漢字2文字で答えなさい。
- (4) アングロアメリカのうち、アメリカ合衆国でない国を答えなさい。
- (5) アメリカ合衆国では、第1次世界大戦の後、増えすぎたアジア系移民を脅威に感じたヨーロッパ系の政治家によって、これらの移民を制限する法律が制定された。この法律の名称を答えなさい。
- (6) シンガポール・マレーシアを構成する主要な民族のうち、中国系以外のもの2つを答えなさい。また、マレーシアでは中国系が約何割を占めているか答えなさい。
- (7) 中国系移民のことを漢字2文字で何と呼ぶかを答えなさい。

確認問題（世界史『アジアと中国』）解答

平成21年4月11日

河野愛一郎

問1

- (4) 農耕を行い、漢字を使用している。
- (5) ヒマラヤ山脈
- (6) 万里の長城

問2

- (10) アラビア海
- (11) ベンガル湾
- (12) インド洋
- (13) セイロン島、スリランカ
- (14) カシミール地方、パキスタン、インド、中国
- (15) デカン高原、綿花
- (16) a ボンベイ, b マドラス, c カルカッタ
- (17) ヒンドゥクシ山脈
- (18) カイバル峠

問3

- (1) ソグディアナ
- (2) トルコ系、イスラム教

問4

- (6) 女真族（満州族）
- (7) 内モンゴル
- (8) 外モンゴル
- (9) ウイグル人、イスラム教
- (10) チベット人、ラマ教（チベット仏教）

問5

(8) 明代：一条鞭法 清代：地丁銀制

理由：それまでの人頭税方式と異なり、いくら家族が増えても税額が不変になったため、働き手としての家族が多い方が得だから。

(9) アヘン戦争、広東（広州）、上海

(10) 租界

(11) カナダ

(12) 移民法

(13) マレー系、インド系（タミル系）、3割

(14) 華僑